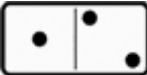

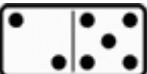




TESTE DE RACIOCÍNIO

Analise cada questão e dê a resposta que achar mais adequada.

Questão 1

Uma das peças de dominó abaixo não segue o padrão da demais. Qual?

- a) 
- b) 
- c) 
- d) 
- e) 






Questão 2

Qual das letras abaixo se parece menos com as outras?

- a) A.
- b) F.
- c) H.
- d) E.
- e) Z.





Questão 3

Um dos animais abaixo não faz parte do grupo.

- a) 
- b) 
- c) 
- d) 
- e) 

Questão 4

Qual dos cinco desenhos se parece menos com os outros quatro?

- a) 
- b) 
- c) 
- d) 
- e) 






Questão 5

Observando um padrão que existe entre os números abaixo, qual está em desacordo?

- a) | 15.
- b) | 14.
- c) | 12.
- d) | 18.
- e) | 10.

Questão 6

Entre os desenhos abaixo há um padrão de concordância, mas, há um intruso. Qual?

- a) 
- b) 
- c) 
- d) 
- e) 

Questão 7

Qual dos cinco desenhos se parece menos com os outros?

a)



b)



c)



d)



e)




Questão 8

Descubra qual o padrão de relação entre as figuras e assinale aquela que lhe parece intrusa.

a)



b)



c)



d)

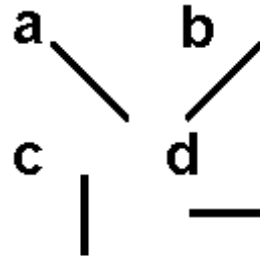
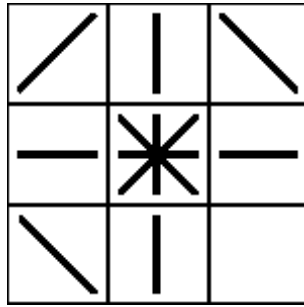


e)

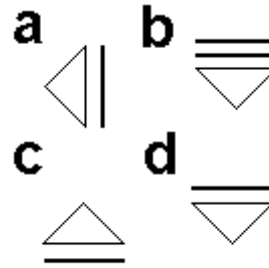
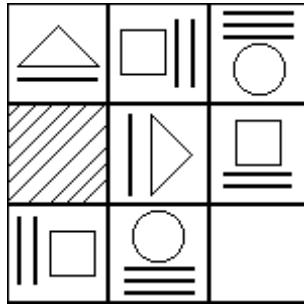


Nas questões de 9 a 15, preencha o espaço vazio da figura à esquerda com a figura correta do lado direito (a, b, c, d, e).

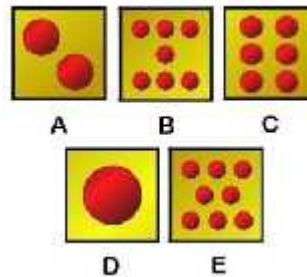

9)



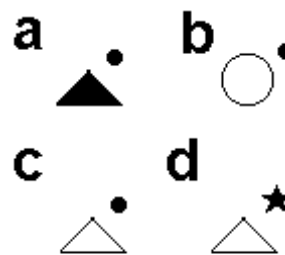
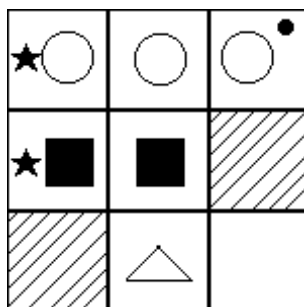
10)



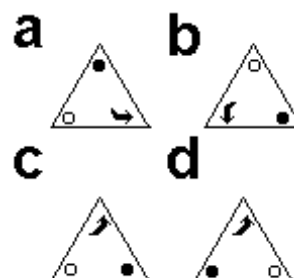
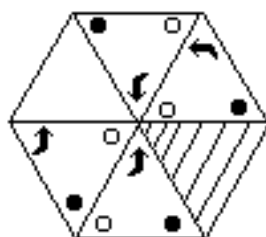
11)



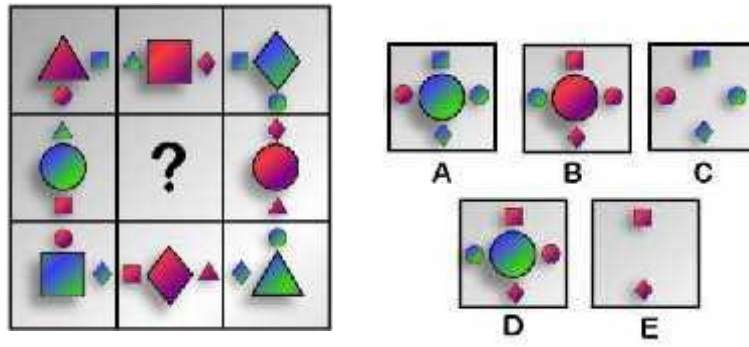
12)



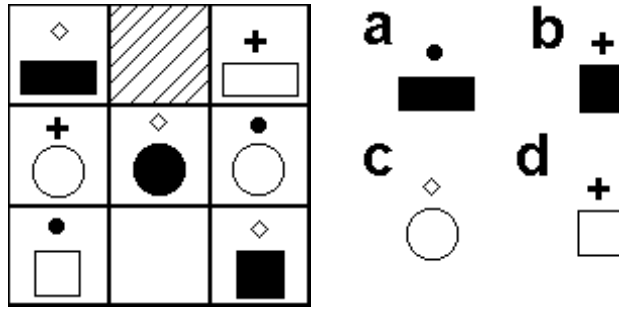
13)



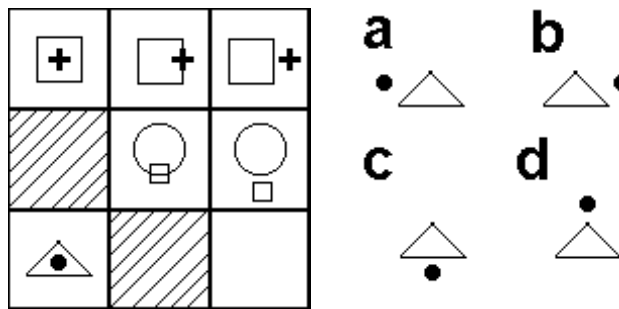
14)



15)



16)



(Respostas: Na coordenação somente com a apresentação do teste respondido.)

